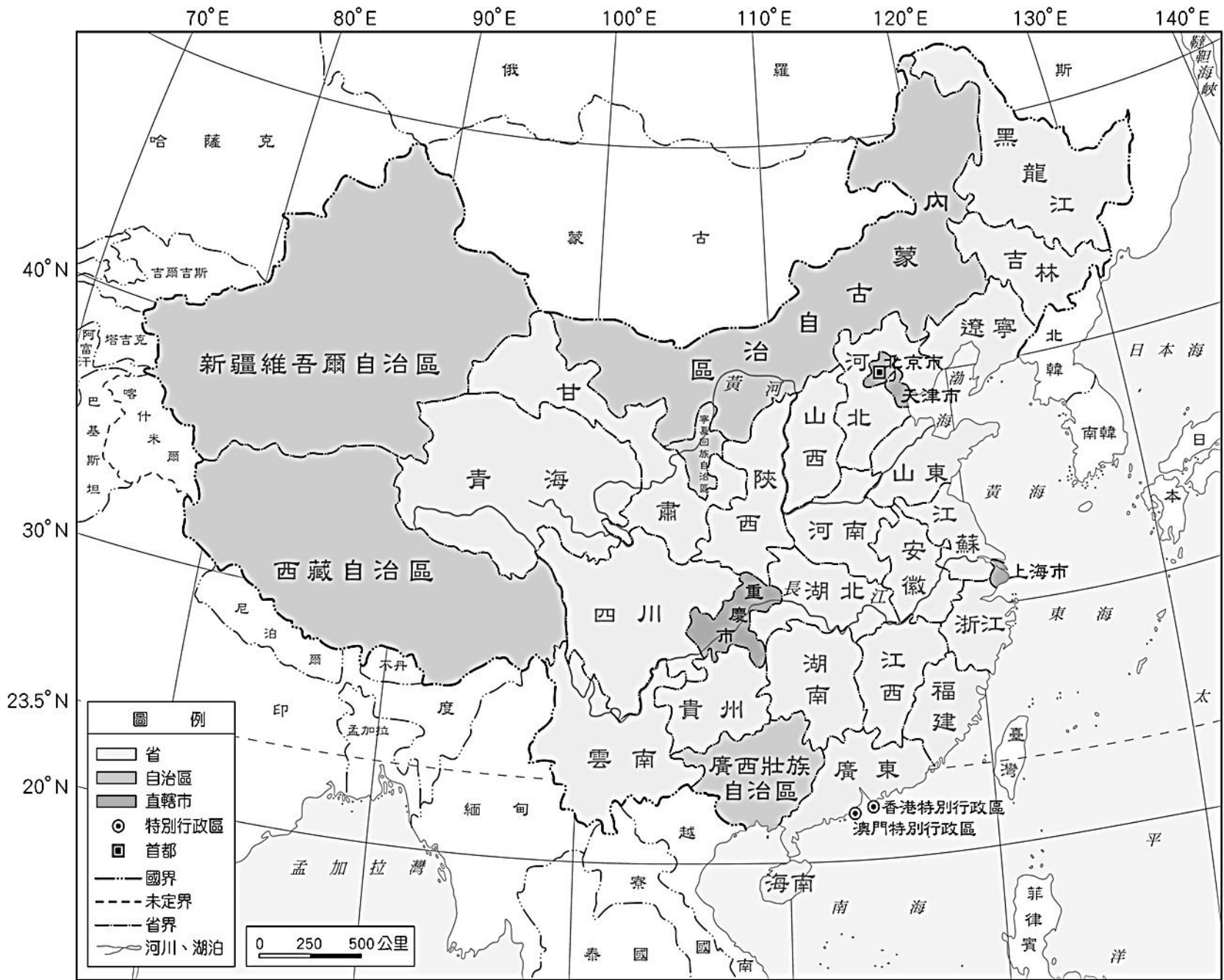


中國行政區圖



33 個省級行政區=22 省+5 自治區+4 直轄市+2 特別行政區

5 自治區→ _____ 自治區、 _____ 自治區、 _____ 自治區

_____ 自治區 _____ 自治區

4 直轄市→ _____ 市、 _____ 市、 _____ 市、 _____ 市

2 特別行政區→ _____ 特別行政區、 _____ 特別行政區

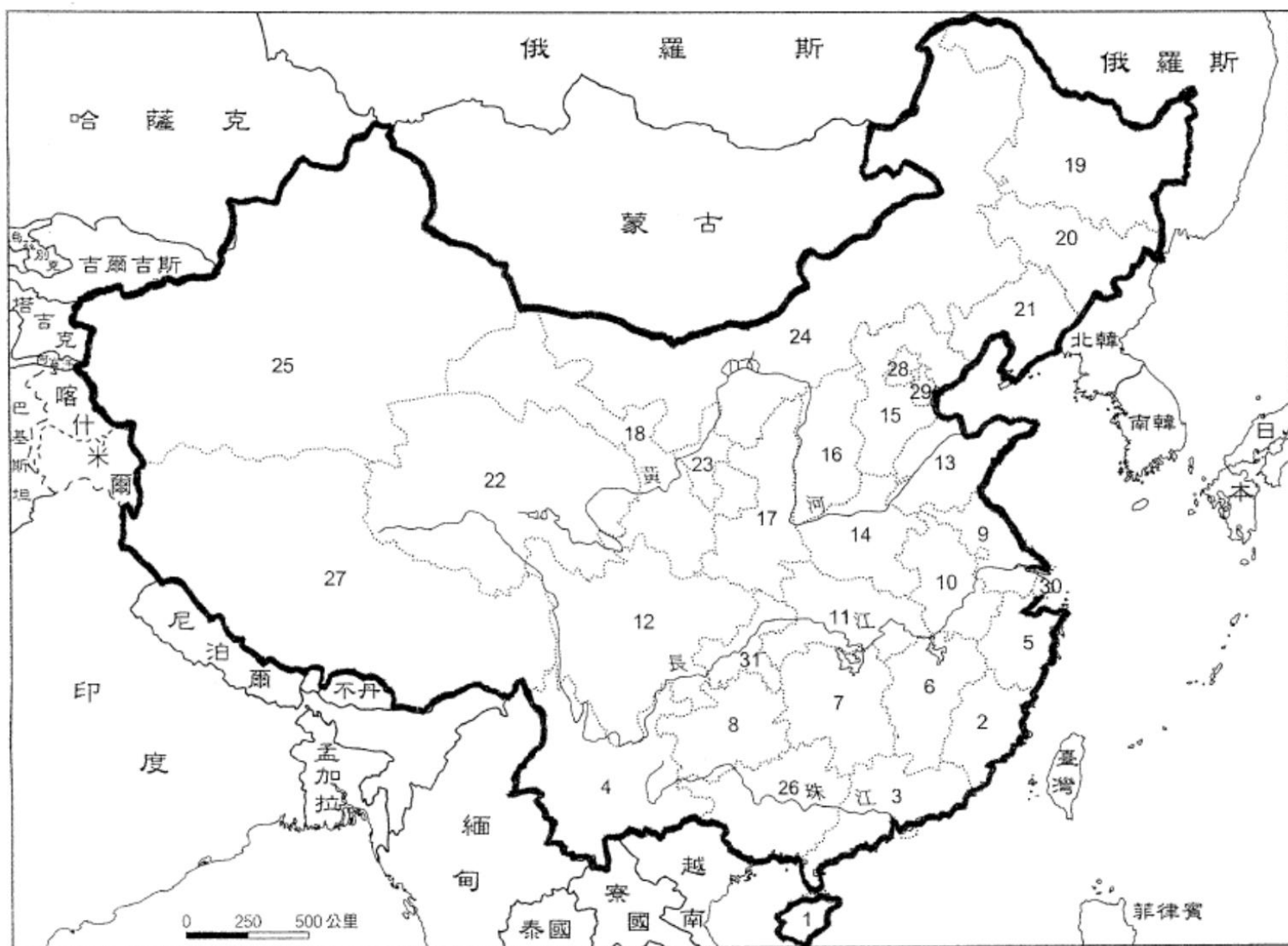
☆請將 33 個省級行政區填入下方空白的中國政區圖，並用心背熟！開學第 2 週考 80 分及格

☆請各位同學在完成空白的中國政區圖後，以色鉛筆將 22 省分別塗上不同顏色

☆請找出鄰國：北韓、俄羅斯、哈薩克、吉爾吉斯、塔吉克、印度、尼泊爾、不丹、緬甸

☆強烈建議將空白的中國政區圖印 5 張自我練習

中國行政區圖



二十二個省

- | | | | | |
|-----------|-----------|-----------|-----------|-----------|
| 1. _____ | 2. _____ | 3. _____ | 4. _____ | 5. _____ |
| 6. _____ | 6. _____ | 8. _____ | 9. _____ | 10. _____ |
| 11. _____ | 12. _____ | 13. _____ | 14. _____ | 15. _____ |
| 16. _____ | 17. _____ | 18. _____ | 19. _____ | 20. _____ |
| 21. _____ | 22. _____ | | | |

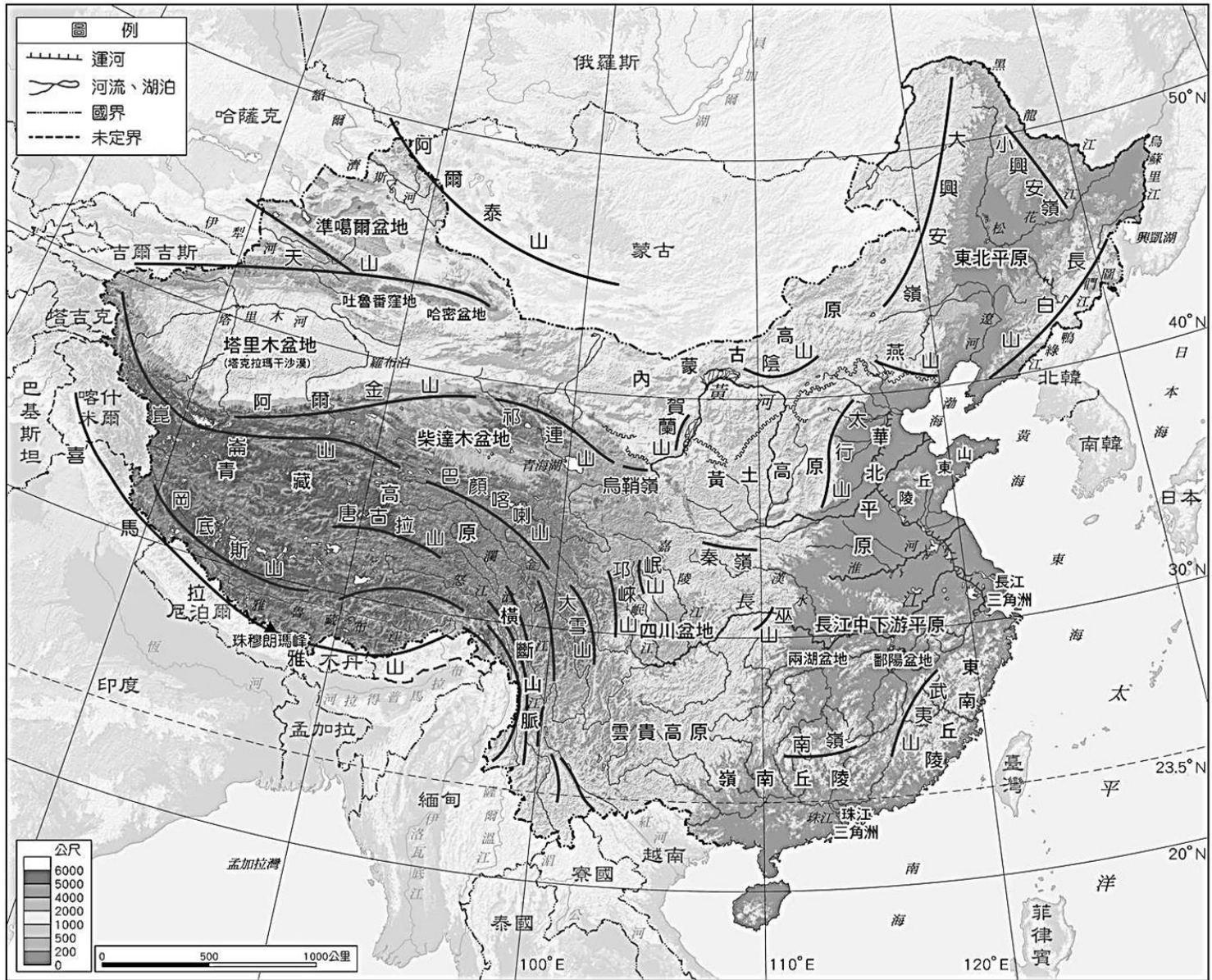
五個自治區

- | | | |
|-----------|-----------|-----------|
| 23. _____ | 24. _____ | 25. _____ |
| 26. _____ | 27. _____ | |

四個直轄市

- | | | | |
|-----------|-----------|-----------|-----------|
| 28. _____ | 29. _____ | 30. _____ | 31. _____ |
|-----------|-----------|-----------|-----------|

中國地形圖

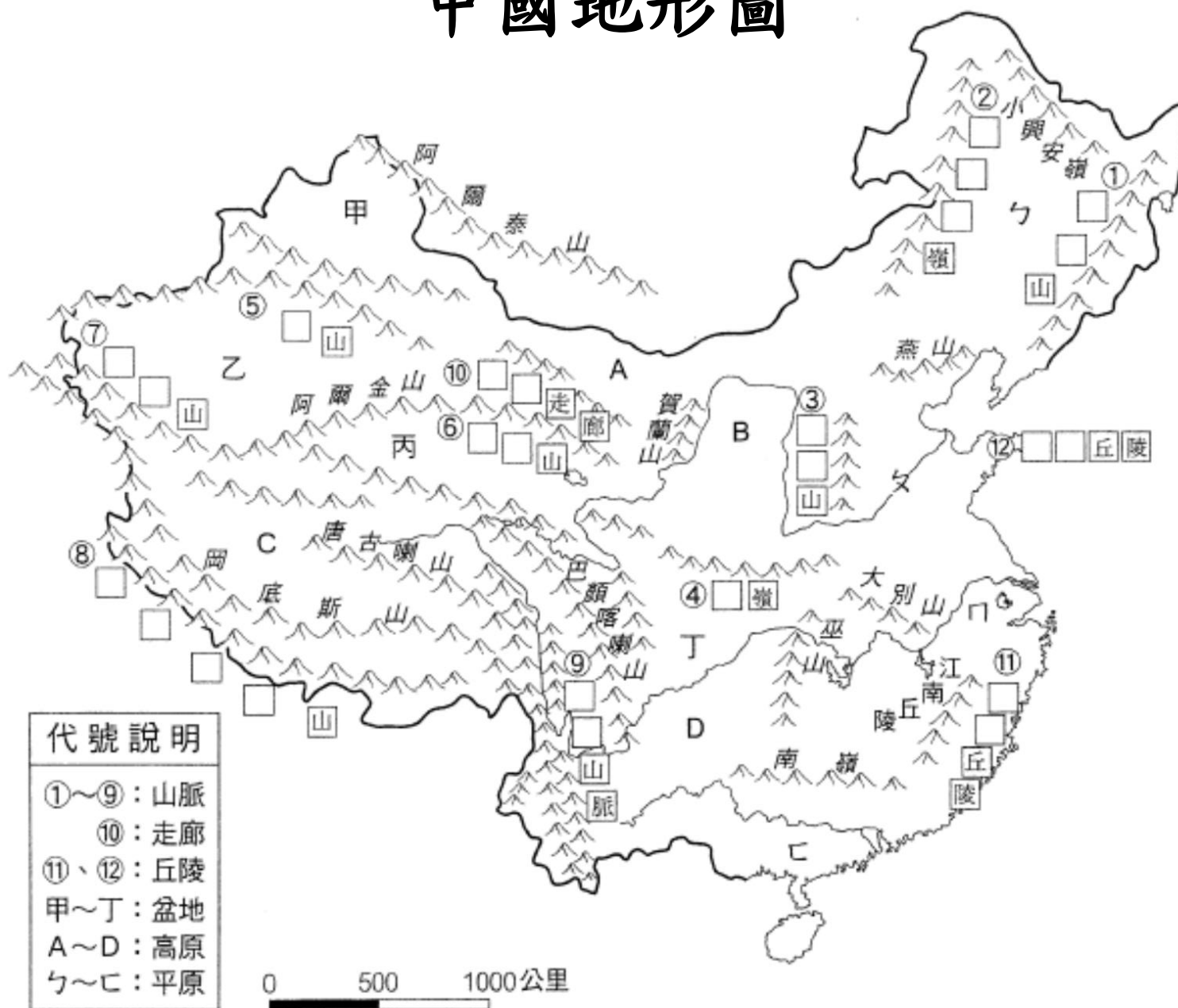


☆請從上方中國地形圖找出下列項目，用螢光筆或彩虹筆塗起來

山地	大興安嶺、小興安嶺、長白山地、太行山、秦嶺、阿爾泰山、天山、崑崙山、岡底斯山、喜馬拉雅山、橫斷山脈
高原	內蒙古高原、黃土高原、雲貴高原、青藏高原
盆地	準噶爾盆地、塔里木盆地、柴達木盆地、四川盆地
平原	東北平原、華北平原、長江中下游平原、珠江三角洲平原
丘陵	東南丘陵、嶺南丘陵、山東丘陵
海洋	黃海、東海、南海、臺灣海峽
鄰國	北韓、俄羅斯、哈薩克、吉爾吉斯、塔吉克、印度、尼泊爾、不丹、緬甸

☆請參考中國地形圖將下圖中的□□填入適合的名稱，並用心背熟!

中國地形圖



盆地

- 甲. _____
- 乙. _____
- 丙. _____
- 丁. _____

高原

- A. _____
- B. _____
- C. _____
- D. _____

平原

- ㄅ. _____
- ㄆ. _____
- ㄇ. _____
- ㄏ. _____

☆開學第2週考 中國政區圖及中國地形圖 80分及格
 ☆強烈建議將空白的中國地形圖印5張自我練習